

حلول الامتحان الوطني الموحد للبكالوريا - الدورة العادية 2017

شعبة العلوم التجريبية - مسلك العلوم الفيزيائية

من انجاز الأستاذ : مبارك هندنا
phy.handa@gmail.com

التمرين الأول

الجزء الاول : العمود ألومنيوم - نحاس

$$1. \text{ لدينا : } Q_{r, \acute{e}q} = \frac{[Al^{3+}]_{\acute{e}q}^2}{[Cu^{2+}]_{\acute{e}q}^3} \text{ ت.ع : } Q_{r, \acute{e}q} = \frac{(6,5 \times 10^{-1})^2}{(6,5 \times 10^{-1})^3} \text{ اذن : } Q_{r, \acute{e}q} = 1,54$$

2. لدينا : $Q_{r, \acute{e}q} = 1,54$ و $K = 10^{200}$ أي $K > Q_{r, \acute{e}q}$ وحسب معيار التطور التلقائي فالمجموعة تتطور في المنحى (1)

3. لدينا حسب نتيجة السؤال السابق : $3Cu_{(aq)}^{2+} + 2Al_{(s)} \rightarrow 3Cu_{(s)} + 2Al_{(aq)}^{3+}$
أي أن : $Cu_{(aq)}^{2+} + 2e^- \rightleftharpoons Cu_{(s)}$ تفاعل اختزال الذي يحدث بجوار الكاثود ، أي القطب الموجب للعمود.
و منه فان : الكترود النحاس تلعب دور الكاثود و الكترود ألومنيوم تلعب دور الأنود.
تفاعل أكسدة الذي يحدث بجوار الأنود ، أي القطب السالب للعمود.

وبالتالي التبيانة الاصطلاحية للعمود هي : $\ominus Al_{(s)} / Al_{(aq)}^{3+} // Cu_{(aq)}^{2+} / Cu_{(s)} \oplus$

4. لدينا : $q = n(e^-).F$

معادلة التفاعل					
$3Cu_{(aq)}^{2+} + 2Al_{(s)} \rightarrow 3Cu_{(s)} + 2Al_{(aq)}^{3+}$				التقدم	حالة المجموعة
كميات المادة بالمول				0	بدئية
$n_0(Cu^{3+})$	$n_0(Al)$	$n_0(Cu)$	$n_0(Al^{3+})$	x	خلال التحول
$n_0(Cu^{3+}) - 3x$	$n_0(Al) - 2x$	$n_0(Cu) + 3x$	$n_0(Al^{3+}) + 2x$		

ولدينا كمية مادة الالكترونات المتبادلة : $n(e^-) = 6x$ يعني : $q = 6x.F$

وحسب الجدول الوصفي : $[Cu^{2+}] = \frac{n_0(Cu^{2+}) - 3x}{V}$ أي : $[Cu^{2+}] = \frac{[Cu^{2+}]_i.V - 3x}{V}$ أي : $[Cu^{2+}] = [Cu^{2+}]_i - \frac{3x}{V}$

يعني : $x = \frac{[Cu^{2+}]_i - [Cu^{2+}]}{3}.V$ وبالتالي : $q = 2.([Cu^{2+}]_i - [Cu^{2+}]).V.F$

ت.ع : $q = 2.(6,5.10^{-1} - 1,6.10^{-1}) \times 65.10^{-3} \times 9,65.10^4 = 6,147.10^3 C$ وبالتالي : $q = 6,147.10^3 C$

الجزء الثاني : تفاعلات حمض البوتانويك

1. تفاعل حمض البوتانويك مع الماء

1.1

معادلة التفاعل					
$C_3H_7COOH_{(aq)} + H_2O_{(l)} \rightarrow C_3H_7COO^-_{(aq)} + H_3O^+_{(aq)}$				التقدم	حالة المجموعة
كميات المادة بالمول				0	بدئية
CV	وافر	0	0	x	خلال التحول
$CV - x$	وافر	x	x	$x_{\acute{e}q}$	عند التوازن
$CV - x_{\acute{e}q}$	وافر	$x_{\acute{e}q}$	$x_{\acute{e}q}$		

لدينا : $\tau = \frac{x_{\acute{e}q}}{x_{\max}}$ وحسب الجدول الوصفي :

+ اذا كان التفاعل كلياً فالحمض C_3H_7COOH هو المتفاعل المحد (لان الماء وافر)

أي : $CV - x_{\max} = 0$ أي : $x_{\max} = CV$

+ لدينا : $x_{\acute{e}q} = n_{\acute{e}q}(H_3O^+) = [H_3O^+]V = 10^{-pH}.V$

$$\tau = 3,89\% : \text{أي } \tau = 3,89 \cdot 10^{-2} : \text{اذن } \tau = \frac{10^{-3,41}}{1,0 \cdot 10^{-2}} : \text{ت.ع } \tau = \frac{10^{-pH}}{C} : \text{أي } \tau = \frac{10^{-pH} \cdot V}{C \cdot V}$$

$$\tau = 3,89 \cdot 10^{-2} < 1 \Leftarrow \text{تفاعل حمض البوتانويك مع الماء تفاعل محدود (غير كلي).}$$

$$1.2 \text{ لدينا : } Q_{r, \text{éq}} = \frac{[HCOO^-]_{\text{éq}} \cdot [H_3O^+]_{\text{éq}}}{[HCOOH]_{\text{éq}}}$$

$$[H_3O^+]_{\text{éq}} = [HCOO^-]_{\text{éq}} = 10^{-pH} = \frac{x_{\text{éq}}}{V} : \text{وحسب الجدول الوصفي ، لدينا :}$$

$$[HCOOH]_{\text{éq}} = \frac{CV - x_{\text{éq}}}{V} = C - \frac{x_{\text{éq}}}{V} = C - 10^{-pH} : \text{و}$$

$$\text{اذن : } Q_{r, \text{éq}} = \frac{10^{-2pH}}{C - 10^{-pH}} : \text{ت.ع } Q_{r, \text{éq}} = \frac{10^{-2 \times 3,41}}{1,0 \cdot 10^{-2} - 10^{-3,41}} : \text{اذن } Q_{r, \text{éq}} = 1,57 \cdot 10^{-5}$$

$$1.3 \text{ لدينا : } K_A = \frac{[HCOO^-]_{\text{éq}} \cdot [H_3O^+]_{\text{éq}}}{[HCOOH]_{\text{éq}}} : \text{أي } K_A = Q_{r, \text{éq}}$$

$$\text{ولدينا : } pK_A = -\log K_A : \text{يعني } pK_A = -\log Q_{r, \text{éq}} : \text{ت.ع } pK_A = -\log(1,57 \cdot 10^{-5}) : \text{اذن } pK_A = 4,8$$

2. تفاعل كل من حمض البوتانويك و أندريد البوتانويك مع الايثانول

2.1 الفائدة من التسخين بالارتداد :

+ التسخين يزيد من سرعة التفاعل ،
+ الارتداد يسمح بتفادي ضياع الأنواع الكيميائية أثناء التفاعل الكيميائي ،

$$2.2 \text{ لدينا : } x(t_{1/2}) = \frac{x_f}{2}$$

$$+ \text{ في التجربة 1 : } x(t_{1/2}) = \frac{0,2}{2} = 0,1 \text{ mol} \text{ بالاسقاط على محور الزمن نجد : } t_{1/2}(1) = 8,5 \text{ min}$$

$$+ \text{ في التجربة 1 : } x(t_{1/2}) = \frac{0,3}{2} = 0,15 \text{ mol} \text{ بالاسقاط على محور الزمن نجد : } t_{1/2}(2) = 2,5 \text{ min}$$

$$t_{1/2}(1) > t_{1/2}(2) \Leftarrow \text{تفاعل التجربة 2 أسرع من تفاعل التجربة 1.}$$

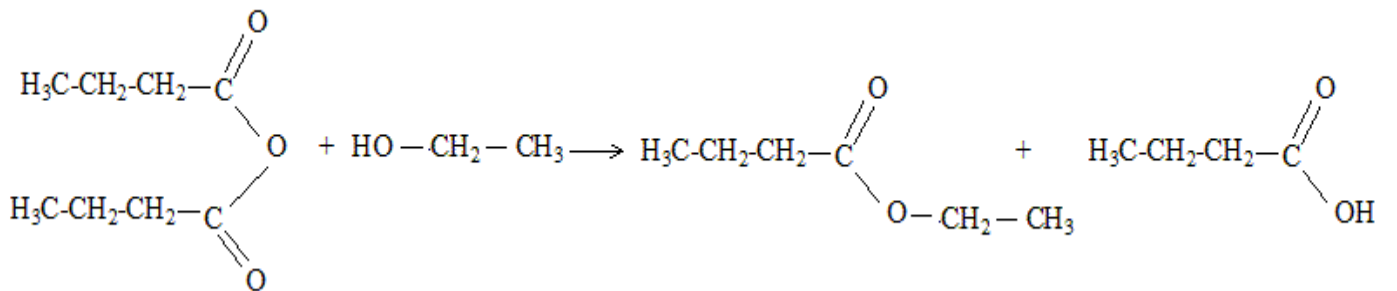
$$2.3 \text{ لدينا : } \tau = \frac{x_f}{x_{\text{max}}} : \text{حيث } x_{\text{max}} = n_0 = 0,3 \text{ mol}$$

$$+ \text{ في التجربة 1 : } \tau_1 = \frac{0,2}{0,3} = 0,667 = 66,7\%$$

$$+ \text{ في التجربة 2 : } \tau_2 = \frac{0,3}{0,3} = 1 = 100\%$$

وبمأن : $\tau_1 < 1$ و $\tau_2 = 1$ فان التفاعل التام هو تفاعل التجربة 2 ، أي تفاعل الايثانول و أندريد البوتانويك.

2.4



التمرين الثاني

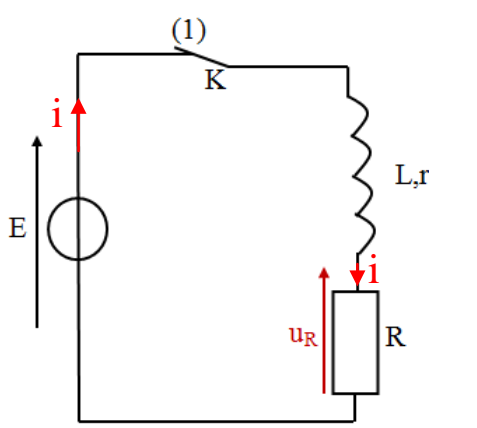
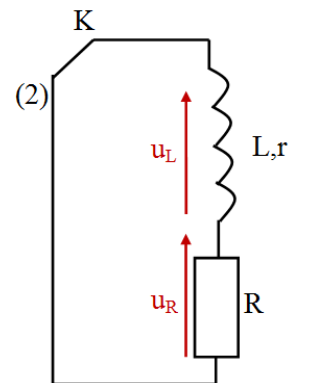
في هذا التمرين التعليل غير مطلوب

⊕ انتشار موجة ميكانيكية على سطح الماء

1- طول الموجة هو : $\lambda = 4cm$	
2- سرعة انتشار الموجة : $v = 2m.s^{-1}$	التعليل $v = \lambda.N \Rightarrow v = 4.10^{-2}.50 \Rightarrow v = 2m.s^{-1}$
3- اللحظة التي عندها تم تمثيل الحبل : $t = 0,03s$	التعليل $v = \frac{d}{\Delta t} \Rightarrow t = \frac{d}{v} \Rightarrow t = \frac{6.10^{-2}}{2} \Rightarrow t = 0,03s$
4- العلاقة بين استطالة النقطة M واستطالة المنبع S : $y_M(t) = y_S(t - 0,03)$	التعليل : $y_M(t) = y_S(t - \tau) \Rightarrow y_M(t) = y_S(t - \frac{SM}{v}) \Rightarrow y_M(t) = y_S(t - \frac{6.10^{-2}}{2}) \Rightarrow y_M(t) = y_S(t - 0,03)$

التمرين الثالث

الجزء الاول : استجابة ثنائي القطب RL لرتبة توتر

1.1	
	
1.2- حسب قانون اضافة التوترات : $u_R + u_L = E$ حيث $u_L = r.i + L.\frac{di}{dt}$ وحسب قانون أوم $u_R = R.i$	يعني : $R.i + r.i + L.\frac{di}{dt} = E$ (*) $(R+r).i + L.\frac{di}{dt} = E$
عندما يتحقق النظام الدائم : $i = I_p = cte$ أي $\frac{di}{dt} = 0$ ، وبالتعويض في العلاقة (*) نجد : $I_p = \frac{E}{R+r}$	
2.1- حسب قانون اضافة التوترات : $u_R + u_L = 0$	ولدينا : $u_L = r.i + L.\frac{di}{dt}$
	يعني : $u_R + r.i + L.\frac{di}{dt} = 0$ وحسب قانون أوم $u_R = R.i$ $i = \frac{u_R}{R}$
اذن : $\frac{L}{R}.\frac{du_R}{dt} + (1 + \frac{r}{R}).u_R = 0$ أي $u_R + \frac{r}{R}u_R + \frac{L}{R}.\frac{du_R}{dt} = 0$	وبالتالي : $\frac{du_R}{dt} + \frac{R+r}{L}.u_R = 0$
2.2- لدينا : $u_R = R.I_p.e^{-\frac{t}{\tau}}$ ولدينا : $\frac{du_R}{dt} = \frac{d}{dt} \left[R.I_p.e^{-\frac{t}{\tau}} \right] = \frac{-R}{\tau}.I_p.e^{-\frac{t}{\tau}}$	نعوض في المعادلة التفاضلية : $\frac{-R}{\tau}.I_p.e^{-\frac{t}{\tau}} + \frac{R+r}{L}.R.I_p.e^{-\frac{t}{\tau}} = 0$ أي $R.I_p.e^{-\frac{t}{\tau}} \left[\frac{-1}{\tau} + \frac{R+r}{L} \right] = 0$
تتحقق هذه المعادلة اذا كان : $\frac{-1}{\tau} + \frac{R+r}{L} = 0$ اذن : $\tau = \frac{L}{R+r}$	

2.3 أ - لدينا : $u_R(t) = R.I_p.e^{-\frac{t}{\tau}}$ ولدينا عند اللحظة $t = 0s$ أي $u_R(0) = R.I_p$: أي $u_R(0) = R.\frac{E}{R+r}$

يعني : $r = R.\left[\frac{E}{u_R(0)} - 1\right]$ ت.ع : $r = 60.\left[\frac{6,5}{6} - 1\right]$ اذن : $r = 5\Omega$

2.3 ب - لدينا : $\tau = \frac{L}{R+r}$ يعني : $L = \tau.(R+r)$ ت.ع : $L = 2,8.10^{-3}.(60+5)$ اذن : $L = 0,182H = 182mH$

2.4 لدينا : $\zeta_m = \frac{1}{2}.L.i^2$ ولدينا : $i = \frac{u_R}{R}$ يعني : $\zeta_m = \frac{1}{2}.\frac{L}{R^2}.u_R^2$

عند اللحظة $t = \tau$: $u_R(\tau) = 2,2V$ ت.ع : $\zeta_m = \frac{1}{2}.\frac{0,182}{60^2}.(2,2)^2$ اذن : $\zeta_m = 1,22.10^{-4} J$

الجزء الثاني : تضمين الوسع

1- عند المخرج S للدائرة المتكاملة المنجزة للجداء ، لدينا : $u_s(t) = k.u_1(t).u_2(t)$ يعني : $u_s(t) = k.u_1(t).[U_0 + s(t)]$
 أي : $u_s(t) = k.P_m.\cos(2\pi.F_p.t).[U_0 + S_m.\cos(2\pi.f_s.t)]$ أي : $u_s(t) = k.P_m.U_0.\left[1 + \frac{S_m}{U_0}.\cos(2\pi.f_s.t)\right].\cos(2\pi.F_p.t)$
 وهو على شكل : $u_s(t) = A.[1 + m.\cos(2\pi.f_s.t)].\cos(2\pi.F_p.t)$ ومنه فان : $A = k.P_m.U_0$ و $m = \frac{S_m}{U_0}$

2.1 2- لدينا : $T_p = 10^{-3}s \Leftarrow 5.T_p = 5ms$

ولدينا : $F_p = \frac{1}{T_p}$ ت.ع : $F_p = \frac{1}{10^{-3}}$ اذن : $F_p = 10^3 Hz = 1KHz$

+ لدينا : $T_s = 10ms$

ولدينا : $f_s = \frac{1}{T_s}$ ت.ع : $f_s = \frac{1}{10.10^{-3}}$ اذن : $f_s = 10^2 Hz$

2.2 + نسبة التضمين : $m = \frac{U_{m,max} - U_{m,min}}{U_{m,max} + U_{m,min}} = \frac{3-1}{3+1} = 0,5$

+ جودة التضمين : بمأن $m = 0,5 < 1$ وان $F_p = 10.f_s$ فان التضمين جيد.

التمرين الرابع

الجزء الاول : دراسة حركة متزلج باحتكاك

1.1- + المجموعة المدروسة : {المجموعة (S)}

+ جرد القوى الخارجية : \vec{P} وزن المجموعة ، ، \vec{R} تأثير السطح (المستوى المائل)

+ تطبيق القانون الثاني لنيوتن في معلم غاليلي مرتبط بالأرض : $\sum \vec{F}_{ext} = m.\vec{a}_G$ أي : $\vec{P} + \vec{R} = m.\vec{a}_G$

+ الاسقاط على المحور x' : $P_x + R_x = m.a_x$ يعني : $m.g.\sin\alpha - f = m.a_G = m.\frac{dv_G}{dt}$

اذن : $\frac{dv_G}{dt} = g.\sin\alpha - \frac{f}{m}$

1.2- لدينا : $v_G(t) = b.t + c$ يعني : $\frac{dv_G}{dt} = b$

بالتعويض في المعادلة التفاضلية نجد : $b = g.\sin\alpha - \frac{f}{m}$ ت.ع : $b = 9,8 \times \sin 23 - \frac{15}{65}$ اذن : $b = 3,6m.s^{-2}$

عند اللحظة $t = 0s$ تنطلق المجموعة (S) بدون سرعة بدئية : $v_G(0) = b \times 0 + c$ أي : $c = 0$

1.3- لدينا : $v_G(t) = 3,68.t$ ، عند اللحظة $t = t_B$: $v_B = 3,68.t_B$ يعني : $t_B = \frac{v_B}{3,68}$ ت.ع : $t_B = \frac{90/3,6}{3,6} = 6,9s$

1.4- باسقاط العلاقة المتجهية $\vec{P} + \vec{R} = m.\vec{a}_G$ على المحور y' : $P_y + R_y = m.a_y$ أي : $-m.g.\cos\alpha + R_N = 0$

يعني : $R_N = m.g.\cos\alpha$ ت.ع : $R_N = 65 \times 9,8 \times \cos 23 = 586,36N$

$$\text{ولدينا : } R = \sqrt{f^2 + R_N^2} \text{ ت.ع : } R = \sqrt{15^2 + (586,36)^2} \text{ اذن : } R = 586,55N$$

2.1 2.1 + المجموعة المدروسة : {المجموعة (S)}

+ جرد القوى الخارجية : \vec{P} وزن المجموعة ، \vec{R} تأثير السطح (المستوى المائل)
 + تطبيق القانون الثاني لنيوتن في معلم غاليلي مرتبط بالأرض : $\sum \vec{F}_{ext} = m \cdot \vec{a}_G$ أي : $\vec{P} + \vec{R} = m \cdot \vec{a}_G$
 + الاسقاط على المحور Ax' : $P_x + R_x = m \cdot a_x$ يعني : $0 - f' = m \cdot a_x$
 يعني : $f' = -m \cdot a_x$ ت.ع : $f' = -65 \times (-3)$ اذن : $f' = 195N$.

$$2.2 \text{ لدينا : } f' = -m \cdot a_x \text{ يعني : } \frac{dv_G}{dt} = \frac{-f'}{m} \text{ بالتكامل نجد : } v_G(t) = \frac{-f'}{m} \cdot t + cte$$

$$\text{عند اللحظة } t = 0s : v_B = \frac{-f'}{m} \times 0 + cte = v_B = 90 \text{ Km.h}^{-1} \text{ يعني : } v_G(t) = \frac{-f'}{m} \cdot t + v_B$$

$$\text{عند اللحظة } t = t_c : v_C = \frac{-f'}{m} \cdot t_c + v_B \text{ يعني : } t_c = \frac{v_B \cdot m}{f'} = \frac{90 \times 65}{195 \times 3,6} = 8,33s \text{ ت.ع : } t_c = \frac{v_B \cdot m}{f'}$$

$$2.3 \text{ لدينا : } v_G(t) = \frac{-f'}{m} \cdot t + v_B \text{ يعني : } \frac{dx_G}{dt} = \frac{-f'}{m} \cdot t + v_B \text{ بالتكامل نجد : } x_G(t) = \frac{-f'}{2m} \cdot t^2 + v_B \cdot t + cte'$$

$$\text{عند اللحظة } t = 0s : x_G(0) = \frac{-f'}{2m} \times 0 + v_B \times 0 + cte' = 0 \text{ أي : } x_G(t) = \frac{-f'}{2m} \cdot t^2 + v_B \cdot t + cte' = 0$$

$$\text{عند اللحظة } t = t_c : x_C = \frac{-f'}{2m} \cdot t_c^2 + v_B \cdot t_c \text{ ولدينا : } BC = x_C - x_B = x_C \text{ اذن : } BC = \frac{-f'}{2m} \cdot t_c^2 + v_B \cdot t_c$$

$$\text{ت.ع : } BC = \frac{-195}{2 \times 65} \cdot (8,33)^2 + \frac{90}{3,6} \times 8,33 \text{ اذن : } BC = 104,17m$$

الجزء الثاني : دراسة طاقة لنواس اللي

$$1 \text{ لدينا : } E_m = E_c + E_{pt} + E_{pp}$$

$$+ \frac{1}{2} \cdot J \cdot \omega^2 \text{ الطاقة الحركية ،}$$

$$+ E_{pp} = 0 \text{ لأن القضيب AB يتذبذب في المستوى الأفقي الذي اختير كجالة مرجعية لـ } E_{pp}$$

$$+ E_{pt} = \frac{1}{2} \cdot C \cdot \theta^2 + cte \text{ عند الحالة المرجعية (} \theta = 0 \text{ و } E_{pt} = 0 \text{) أي } cte = 0$$

$$\text{ومنه فان : } E_m = \frac{1}{2} \cdot J \cdot \omega^2 + \frac{1}{2} \cdot C \cdot \theta^2$$

$$2 \text{ لدينا : } E_m = E_c + E_{pt}$$

$$\text{ولدينا عند موضع التوازن (حيث } \theta = 0 \text{ و } E_{pt} = 0 \text{) : } E_m(\theta = 0) = E_c \text{ مبيانيا لدينا : } E_m(\theta = 0) = 16mJ$$

$$\text{وبما ان الاحتكاكات مهملة فان : } E_m = 16mJ \Leftarrow E_m = Cte$$

$$\text{ولدينا عند اللحظة } t = 0s \text{ (حيث } E_c = 0 \text{ و } \theta = \theta_m \text{) : } E_m(t = 0s) = E_{pt} = \frac{1}{2} \cdot C \cdot \theta_m^2$$

$$\text{اذن : } C = \frac{2 \cdot E_m}{\theta_m^2} \text{ ت.ع : } C = \frac{2 \times 16 \cdot 10^{-3}}{(0,8)^2} = 5 \cdot 10^2 \text{ N.m.rad}^{-1}$$

$$3 \text{ لدينا : } E_{c,max} = \frac{1}{2} \cdot J \cdot \omega_{max}^2 \text{ يعني : } \frac{2 \cdot E_{c,max}}{\omega_{max}^2} \text{ ت.ع : } J_{\Delta} = \frac{2 \times 16 \cdot 10^{-3}}{(2,31)^2} = 6 \cdot 10^{-3} \text{ Kg.m}^2$$

من انجاز الأستاذ : مبارك هندنا

Phy.handa@gmail.com

06/06/2017