

انتشار موجة ضوئية - تصحيح تمارين السلسلة 3

$$n(\text{flint}) = \frac{c}{v(\text{flint})}$$

$$v(\text{flint}) = \frac{c}{n(\text{flint})} = \frac{3 \times 10^8}{1,612} = 1,86 \times 10^8 \text{ m/s}$$

$$\lambda_r(\text{flint}) = \frac{v(\text{flint})}{\nu} = \frac{1,86 \times 10^8}{4,57 \times 10^{14}} = 407 \text{ nm}$$

3 - 1 قانوني ديكرت للانكسار :

الشعاع الوارد والشعاع المنكسر ينتميان إلى نفس المستوى
 $\sin i = n(\text{verre}) \sin r$

بالنسبة للشعاع الضوئي الأزرق : $\sin i = n_b(\text{crown}) \sin r$ أي أن

$$r_b(\text{crown}) = 34,707^\circ \quad \sin r = \frac{\sin i}{n_b(\text{crown})} = \frac{\sin 60}{1,521} = 0,569$$

$$r_b(\text{flint}) = 31,216^\circ \quad \sin r = \frac{\sin i}{n_b(\text{flint})} = \frac{\sin 60}{1,671} = 0,518 \quad \sin i = n_b(\text{flint}) \sin r$$

بالنسبة للشعاع الضوئي الأحمر : $\sin i = n_r(\text{crown}) \sin r$

$$r_r(\text{crown}) = 35,16^\circ \quad \sin r = \frac{\sin i}{n_r(\text{crown})} = \frac{\sin 60}{1,504} = 0,576$$

$$r_r(\text{flint}) = 32,496^\circ \quad \sin r = \frac{\sin i}{n_r(\text{flint})} = \frac{\sin 60}{1,612} = 0,537 \quad \sin i = n_r(\text{flint}) \sin r$$

بالنسبة للزجاج crown الزاوية بين الشعاع الأحمر والأزرق هو :

$$\Delta r(\text{crown}) = r_r(\text{crown}) - r_b(\text{crown}) = 0,453^\circ$$

$$\Delta r(\text{flint}) = r_r(\text{flint}) - r_b(\text{flint}) = 1,28^\circ$$

النوع من الزجاج الأكثر مبدد هو الزجاج flint
 التمرين 6

1 - تبين هذه التجربة أن طبيعة الضوء موجة

2 - لدينا حسب التبيانة أن $\tan \theta = \frac{L_1}{2D}$ و $\theta = \frac{\lambda}{a} = \frac{c}{a \cdot \nu}$ وبما أن θ صغيرة جدا بالنسبة لظاهرة حيود

$$\theta = \frac{L_1}{2D} = \frac{c}{a \cdot \nu} \Rightarrow a = \frac{2D \cdot c}{L_1 \cdot \nu}$$

الضوء فإن $\tan \theta = \theta$ فإن

$$a = 1,02 \times 10^{-4} \text{ m} \quad \text{حساب } a$$

بما أن التردد لا يتعلق بوسط الانتشار أي بوسط الانكسار وتم الاحتفاظ بنفس الجهاز (a, D) فإن

$$\frac{\lambda}{a \cdot n} = \frac{L_2}{2D} \quad \text{بحيث أن } \lambda' = \frac{\lambda}{n} \quad \text{أي أن } \frac{\lambda}{a \cdot n} = \frac{L_2}{2D}$$

انتشار موجة ضوئية - تصحيح تمارين السلسلة 3

انتشار الموجة الضوئية تصحيح تمارين السلسلة 4

التمرين 1

1 - مجال تغير طول موجات الضوء في الفراغ :

$$v_1 \leq v_0 \leq v_2 \Rightarrow \frac{1}{v_2} \leq \frac{1}{v_0} \leq \frac{1}{v_1} \Rightarrow \frac{V}{v_2} \leq \frac{V}{v_0} \leq \frac{V}{v_1}$$

$$\lambda_2 \leq \lambda_0 \leq \lambda_1 \Rightarrow 0,4 \mu\text{m} \leq \lambda \leq 0,8 \mu\text{m}$$

2 - نعرف معامل انكسار وسط بالعلاقة التالية :

$n = \frac{C}{V}$ ونعلم كذلك أن $V = \lambda \cdot \nu$ سرعة الضوء في وسط شفاف . وكذلك سرعته في الفراغ

هي : $C = \lambda_0 \cdot \nu$ أي أن $n = \frac{C}{V} = \frac{\lambda}{\lambda_0} \Rightarrow n = \frac{\lambda}{\lambda_0}$ وبالتالي فإن تغير أطوال الموجات للضوء

المرئي في الزجاج هي :

$$0,4 \mu\text{m} \leq \lambda_0 \leq 0,8 \mu\text{m}$$

$$\frac{0,4 \mu\text{m}}{1,5} \leq \frac{\lambda_0}{n} \leq \frac{0,8 \mu\text{m}}{1,5}$$

$$0,27 \mu\text{m} \leq \frac{\lambda_0}{n} \leq 0,53 \mu\text{m}$$

التمرين 3

1 - حساب تردد كل من الموجتين :

بالنسبة للون الأحمر : $\lambda_0(\text{rouge}) = \frac{c}{\nu}$ أي أن $\nu(\text{rouge}) = \frac{c}{\lambda_0(\text{rouge})} = \frac{3 \times 10^8}{656,3 \times 10^{-9}} = 4,57 \times 10^{14} \text{ Hz}$

بالنسبة للون الأزرق : $\nu(\text{bleu}) = \frac{c}{\lambda_0(\text{bleu})} = \frac{3 \times 10^8}{486,1 \times 10^{-9}} = 6,17 \times 10^{14} \text{ Hz}$

التردد (لون الشعاع) لا يتعلق بوسط الانتشار أي بمعامل الانكسار

2 - حساب السرعة وطول الموجة للإشعاع الأحمر في وسطي الزجاج :
 في وسط الزجاج (crown) :

$$n(\text{crown}) = \frac{c}{v(\text{crown})}$$

$$v(\text{crown}) = \frac{c}{n(\text{crown})} = \frac{3 \times 10^8}{1,504} = 1,99 \times 10^8 \text{ m/s}$$

$$\lambda_r(\text{crown}) = \frac{v(\text{crown})}{\nu} = \frac{1,99 \times 10^8}{4,57 \times 10^{14}} = 435,4 \text{ nm}$$

في وسط الزجاج (flint) :

انتشار موجة ضوئية - تصحيح تمارين السلسلة 3

البصري الرئيسي أي عند اجتيازه العدسة لا ينحرف ، بينما الشعاع الأحمر الوارد من البؤرة الرئيسية الشيء سيجتاز العدسة موازيا للمحور البصري الرئيسي .
ومن خلال الشكل يتبين أن :

$$\tan(\delta\theta) = \frac{\ell}{f'}$$

$$\delta\theta = D_v - D_R \Rightarrow \tan(D_v - D_R) = \frac{\ell}{f'}$$

$$\ell = f' \tan(D_v - D_R)$$

2 - 4

نستنتج قيمة زاوية الانحراف D_v :

$$\ell = f' \tan(D_v - D_R) \Rightarrow D_v - D_R = \text{Arc tan}\left(\frac{\ell}{f'}\right)$$

$$D_v = \text{Arc tan}\left(\frac{\ell}{f'}\right) + D_R$$

$$D_v = 26^\circ 99$$

$$D_v = i + i' - A \quad i = 0$$

$$i' = D_v + A = 56^\circ 99$$

حسب قانون ديكرارت :

$$n_v \sin r' = \sin i'$$

$$A = r + r' = r'$$

$$n_v \sin A = \sin(A + D_v) \Rightarrow n_v = \frac{\sin(A + D_v)}{\sin A} = 1,67$$

5 - حساب a و b

حسب الدراسة لدينا :

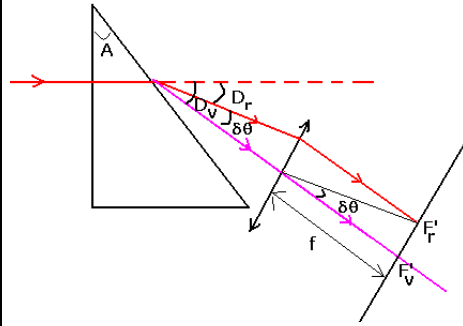
$$n_R = a + \frac{b}{\lambda_R^2}$$

$$n_v = a + \frac{b}{\lambda_v^2}$$

$$n_v - n_R = b \left(\frac{1}{\lambda_v^2} - \frac{1}{\lambda_R^2} \right) \Rightarrow b = \frac{n_v - n_R}{\left(\frac{1}{\lambda_v^2} - \frac{1}{\lambda_R^2} \right)} = 5,63.10^{-15} \text{ m}^2$$

$$a = n_v - \frac{b}{\lambda_v^2} = 1,634$$

التمرين 9



انتشار موجة ضوئية - تصحيح تمارين السلسلة 3

وبالتالي فإن $\frac{a.v}{2Dc} = \frac{1}{L_1}$ وحسب السؤال السابق $\frac{c}{a.n.v} = \frac{L_2}{2D} \Rightarrow \frac{1}{n} = L_2 \frac{a.v}{2D.c}$

$$\frac{1}{n} = \frac{L_2}{L_1} \Rightarrow n = \frac{L_1}{L_2}$$

3 - تحديد القطر d لخيط العنكبوت :

$$d = \frac{2 \times 0,5 \times 3 \times 10^8}{10^{-2} \times 4,44 \times 10^{14}} = 6,76 \times 10^{-5} \text{ m} \quad \text{عدديا } d = \frac{2D\lambda}{L_3} = \frac{2Dc}{L_3.v} \quad \theta = \frac{\lambda}{d} = \frac{L_3}{2D}$$

التمرين 7 : عناصر الإجابة

$$\theta = \lambda / d - 1$$

$$\frac{\lambda}{d} = \frac{L}{2D} - 2$$

3 - 1 من المنحنى لدينا $\lambda = 0,44.10^{-6} \text{ m}$

تردد الموجة $\nu = 6,82.10^{14} \text{ Hz}$

3 - 2 أ - طول الموجة للضوء الأحمر $\lambda_R = 800 \text{ nm}$

ب - تراكب جميع ألوان الطيف المرئي .

التمرين 8

1 - اسم الظاهرة التي تحدث : ظاهرة تبديد الضوء بواسطة موشور
2 - تؤدي ظاهرة تبديد الضوء الأبيض بواسطة موشور إلى انبثاق طيف الضوء الأبيض حيث أن الشعاع البنفسجي أكثر انحرافا من الأشعة الأخرى وبالتالي من الشعاع الأحمر إذن حسب الشكل فإن :

(1) يمثل الشعاع البنفسجي

(2) يمثل الشعاع الأحمر .

3 - حساب قيمة D_R زاوية انحراف الشعاع الأحمر بالنسبة لاتجاهه البدئي :

حسب قانون ديكرارت :

$$\sin i = n_R \sin r \quad i = 0$$

$$\sin r = \frac{\sin i}{n_j} = 0$$

$$r = 0$$

$$A = r + r' \Rightarrow r' = A = 30^\circ$$

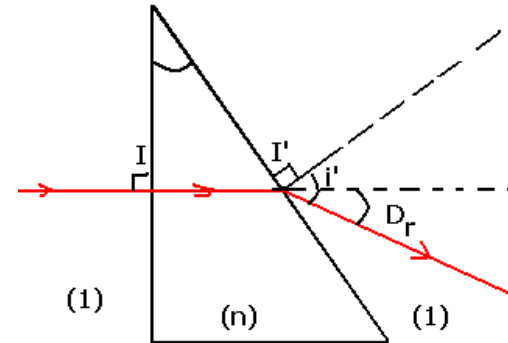
$$n \sin r' = \sin i' \Rightarrow \sin i' = 0,825$$

$$i' = 55^\circ 59$$

$$D_R = i + i' - A \Rightarrow D_R = 25^\circ 59$$

4 - 1 إثبات العلاقة $\ell = f' \tan(D_v - D_R)$

حسب الشكل I' نقطة الانكسار الثاني بين الموشور والوسط الهواء متطابقة مع البؤرة الرئيسية الشيء للعدسة المجمععة . الشعاع البنفسجي متطابق مع



انتشار موجة ضوئية - تصحيح تمارين السلسلة 3

1 - 2 حساب سرعة انتشار الموجة الضوئية في قلب الليف البصري :

$$v = \frac{d}{\Delta t} = \frac{L}{\tau} = \frac{200}{10^{-6}} = 2 \times 10^8 \text{ m/s}$$

1 - 3 نستنتج معامل الانكسار n للوسط الشفاف الذي يكون قلب الليف البصري :

$$\text{لدينا العلاقة : } n = \frac{c}{v} = \frac{3 \times 10^8}{2 \times 10^8} = 1,5$$

1 - 4 حساب طول الموجة الضوئية في قلب الليف البصري : $\lambda = \frac{\lambda_0}{n} = \frac{600 \times 10^{-9}}{1,5} = 400 \text{ nm}$

2 - حساب τ' التأخر الزمني في حالة استعمال منبع آخر طول موجته λ_0' :

$$\text{لدينا } \tau' = \frac{L}{v'} \text{ بحيث أن } v' = \frac{c}{n'} \text{ أي أن}$$

$$\tau' = \frac{Ln'}{c} = \frac{L \left(1,484 + \frac{5,6 \times 10^{-15}}{\lambda_0'^2} \right)}{c}$$

$$\tau' = \frac{200 \left(1,484 + \frac{5,6 \times 10^{-5}}{(400 \times 10^{-9})^2} \right)}{3 \times 10^8} = 1,01 \times 10^{-6} \text{ s}$$

التمرين 11

1 - حساب التردد N للموجة الضوئية :

$$N = 4,22 \times 10^{14} \text{ Hz عدديا } \lambda = \frac{c}{N} \Rightarrow N = \frac{c}{\lambda}$$

2 - التبيانية :

3 - العلاقة بين L_R و D و θ :

$$\text{لدينا } \tan \theta = \frac{L_R}{2D} \text{ وبما أن } \theta \text{ فإن}$$

$$\theta = \frac{L_R}{2D}$$

4 - العلاقة بين λ_R و d و θ :

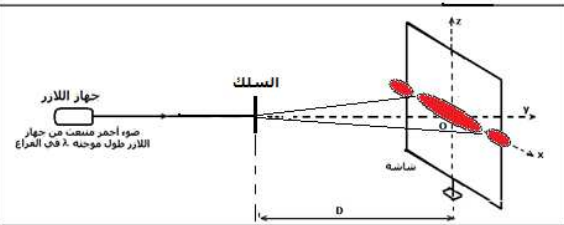
$$\theta = \frac{\lambda_R}{d} \text{ . الوحدات : } \lambda_R \text{ بالمترو و d بالمترو}$$

كذلك θ بالرديان

5 - العلاقة بين L_R و λ_R

من العلاقتين السابقتين لدينا : $\frac{\lambda_R}{d} = \frac{L_R}{2D}$ أي أن λ_R تتناسب اطرادا و عرض البقعة

المركزية L_R



انتشار موجة ضوئية - تصحيح تمارين السلسلة 3

1 - الصيغ الأربع للموشور

$$A = r + r'$$

$$D = i + i' - A$$

$$\sin i = n \sin r$$

$$n \sin r' = \sin i'$$

$$1 - 2 \text{ لنبين أن } A = 2r \text{ و } D_m = 2i - A$$

لدينا $i = i'$ من خلال الصيغ الأربع : $n \sin r = n \sin r'$ أي أن $r = r'$ وبالتالي فإن $A = 2r$ و

$$D = D_m = 2i - A$$

$$2 - \text{ لنبين العلاقة } n = \frac{\sin\left(\frac{A + D_m}{2}\right)}{\sin\left(\frac{A}{2}\right)}$$

لدينا العلاقة $D_m = 2i - A$ ومنه $i = \frac{D_m + A}{2}$ ولدينا كذلك $A = 2r$ أي أن $r = A/2$

$$\text{في العلاقة } \sin i = n \sin r \text{ لدينا } n = \frac{\sin\left(\frac{A + D_m}{2}\right)}{\sin\left(\frac{A}{2}\right)} \text{ ومنه } \sin\left(\frac{D_m + A}{2}\right) = n \sin\left(\frac{A}{2}\right)$$

3 - حساب n معامل انكسار الزجاج :

$$n(\lambda') = \frac{\sin(109,87)}{\sin(30)} = 1,88$$

4 - طول الموجة لهذا الإشعاع في الزجاج : $\lambda'(\text{verre}) = \frac{\lambda}{n(\text{verre})} = \frac{570 \times 10^{-9}}{1,88} = 303 \text{ nm}$

لونه في الزجاج هو نفسه في الهواء يتميز بالتردد $\nu = \frac{c}{\lambda} = \frac{3 \times 10^8}{570 \times 10^{-9}} = 5,26 \times 10^{14} \text{ Hz}$

$$5 - n(\lambda'') = \frac{\sin(112,6)}{\sin(30)} = 1,07$$

طول الموجة لهذا الإشعاع في الزجاج : $\lambda''(\text{verre}) = \frac{\lambda}{n''(\text{verre})} = \frac{570 \times 10^{-9}}{1,07} = 533 \text{ nm}$

لونه في الزجاج هو نفسه في الهواء يتميز بالتردد $\nu = \frac{c}{\lambda} = \frac{3 \times 10^8}{570 \times 10^{-9}} = 5,26 \times 10^{14} \text{ Hz}$

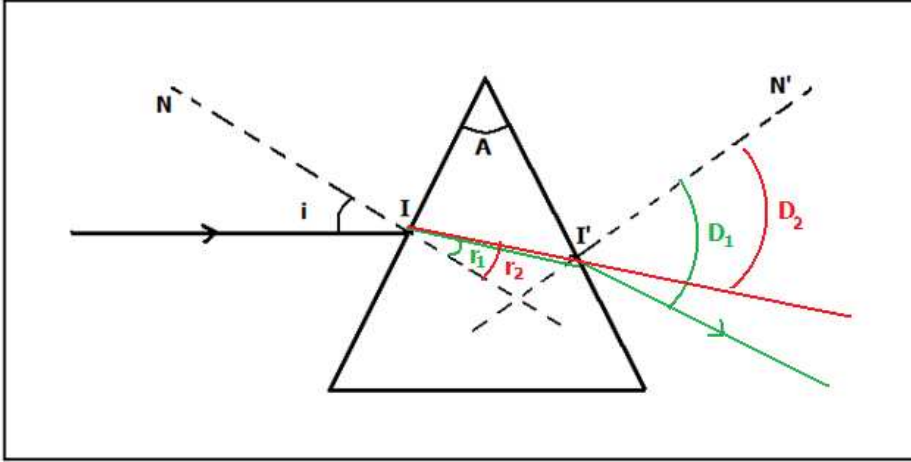
الخاصية التجريبية التي تم إبرازها في هذه الدراسة هي أن طول الموجة يتعلق بوسط الانتشار أي بمعامل الانكسار

التمرين 10

$$1 - 1 \text{ التأخر الزمني } \tau = 5 \times 0,2 \times 10^{-6} \text{ s} = 10^{-6} \text{ s}$$

انتشار موجة ضوئية - تصحيح تمارين السلسلة 3

4 - حساب الفرق الزاوي بين الشعاعين عند انبثاقهما : $\Delta\theta = D_1 - D_2 = 9,23^\circ$
5 -



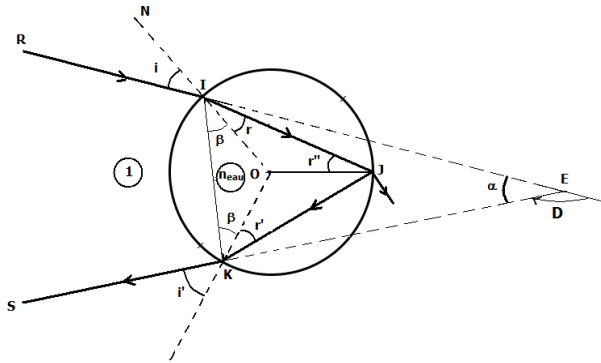
6 - الظاهرة التي تم إبرازها خلال التجربة هي تبديد الضوء بواسطة الموشور لكون أن تردد الموجة الضوئية يتعلق بمعامل الانكسار .

التمرين 18

1 - خصائص الموجة الضوئية الواردة على القطرة هي : طول الموجة $\lambda = 550\text{nm}$ ، الدورية المكانية و الدورية الزمانية $T = 1/\nu$. بحيث أن $\lambda = c/\nu$ أي أن $\nu = \lambda/c = 550 \times 10^{-9} / 3 \times 10^8 = 1,83 \times 10^{14} \text{Hz}$ سرعة انتشارها في القطرة :

نعلم أن $n_{\text{eau}} = c/\nu = 3 \times 10^8 / 1,834 = 2,25 \times 10^8 \text{m/s}$ أي أن $n_{\text{eau}} = c/\nu$

2 - لنبين أن الموجة الضوئية خضعت إلى انحراف خلال انتشارها :



انتشار موجة ضوئية - تصحيح تمارين السلسلة 3

حساب القطر d للسلك : $d = \frac{2D\lambda_R}{L_R}$

تطبيق عددي : $d = 2,37 \times 10^{-5} \text{m} = 23,7 \mu\text{m}$

6 - 1 حساب عرض البقعة المركزية L_V المحصلة بواسطة اللازر الأخضر :

لدينا $\frac{L_V}{\lambda_V} = \frac{L_R}{\lambda_R} \Rightarrow L_V = \frac{\lambda_V}{\lambda_R} \times L_R$ عدديا $L_V = 8,98 \text{cm}$ أي أن $L_R > L_V$

6 - 2 يوافق الضوء الأحمر دائما عرض فسوي للبقعة المركزية ولهذا السبب نستعمل جهاز اللازر الباعث للضوء الأحمر عوض الألوان الأخرى .

7 - انظر الدرس

التمرين 12

1 - العلاقات المميزة للموشور :

$$\sin i = n \sin r$$

$$n \sin r' = \sin i'$$

$$A = r + r'$$

$$D = i + i' - A$$

2 - حساب الانحراف D_1

$$\begin{cases} \sin i = n_1 \sin r_1 \Rightarrow \sin r_1 = \frac{\sin i}{n_1} \\ r_1 = 25^\circ \\ A = r_1 + r'_1 \Rightarrow r'_1 = A - r_1 \\ r'_1 = 35^\circ \end{cases}$$

$$\begin{cases} n_1 \sin r'_1 = \sin i'_1 \\ \sin i'_1 = 0,96 \\ i'_1 = 73,57^\circ \\ D_1 = i + i'_1 - A \\ D_1 = 58,57^\circ \end{cases}$$

3 - حساب الانكسار للزجاج n_2 :

$$\sin i = n_2 \sin r_2 \Rightarrow n_2 = \frac{\sin i}{\sin r_2} = 1,612$$

لنحسب الانحراف D_2

$$A = r_2 + r'_2 \Rightarrow r'_2 = A - r_2$$

$$r'_2 = 34^\circ$$

$$\begin{cases} n_2 \sin r'_2 = \sin i'_2 \\ \sin i'_2 = 0,90 \\ i'_2 = 64,34^\circ \\ D_2 = i + i'_2 - A \\ D_2 = 49,34^\circ \end{cases}$$

انتشار موجة ضوئية - تصحيح تمارين السلسلة 3

نمدد الشعاعين RI و SK على الشكل ، فنحصل على الانحراف $D = \widehat{RI, KS}$
العلاقة بين D و r و c :

نطبق قانون ديكارت للإنكسار بالنسبة للإنكسار الأول : $\sin i = n_{em} \sin r$

من خلال الشكل الهندسي لدينا : OIJ مثلث متساوي الساقين أي أن $r = r''$ وحسب قانون

ديكارت للإنعكاس في النقطة J وكذلك OJK مثلث متساوي الساقين فإن $r' = r''$ أي أن $r = r'$

وبالنسبة لزاوية الانحراف D لدينا : $D = \pi - \alpha$

حساب α :

لنختار المثلث EIK : $\alpha + \beta + i + \beta + i' = \pi$ أي أن $\alpha = \pi - 2\beta - i - i'$

بالنسبة للمثلث IJK : $\beta + r + \beta + r + 2r = \pi$ أي أن $\beta = \frac{\pi}{2} - 2r$

وبالتالي فإن $\alpha = 4r - i - i'$ أي أن $D = \pi - 4r + i + i'$

وحسب قانون ديكارت للإنكسار بالنسبة للإنكسار الثاني : $n \sin r' = \sin i'$ وبما أن $r = r'$ فإن

$\sin i = \sin i'$ أي أن $i = i'$ وبالتالي فإن $D = \pi - 4r + 2i$

4 - للمنحنى $D = f(i)$ قيمة دنوية D_m حيث الانحراف يكون شبه ثابت بالنسبة للقيم i جد متقاربة

أي عندما نغير i بقيم جد متقاربة تبقى $D = D_m$